



Жінка похилого віку, госпіталізована з скаргами на різкий біль, набряк в ділянці правого кульшового суглобу, що з'явилася після падіння. При огляді: стегно приведенне всередину, рухи в **кульшовому суглобі** порушені. Перелом, якої **кістки** або її **частини** визначив лікар?

- 
- A. шийка стегнової кістки
 - B. тіло стегнової кістки
 - C. виростки стегнової кістки
 - D. лобкова кістка
 - E. сіднична кістка



А. шийка стегнової кістки



У хворої 70 р. діагностовано перелом шийки лівої стегнової кістки з розривом зв'язки **голівки стегнової кістки**. Гілка якої **артерії** пошкоджена?



A. Затульної

B. Стегнкової


C. Зовнішньої клубової

D. Нижньої клубової



E. Внутрішньої соромітної



А. Затульної




У вагітної жінки 29 р., лікар-акушер визначив розміри таза. За допомогою циркуля була виміряна **відстань** між двома **верхніми передніми клубовими остями**. Який розмір великого таза був визначений?

- 
- 
- A. distantia spinarum
 - B. distantia cristarum
 - C. distantia trochanterica
 - D. conjugata vera
 - E. conjugata anatomica



A. distantia spinarum



На рентгенограмі тазу видно всі **три частини тазової кістки**, відокремлені широкими проміжками, що відповідають невидимому на рентгенограмах хрящу. Про який **вік** суб'єкта можна говорити?



A. До 16 років

B. До 36 років


C. До 46 років

D. До 40 років


E. До 50 років



A. До 16 років



При патологічних пологах у жінки виникло розходження лобкових кісток. Який вид з'єднання кісток постраждав?



- 
- A. Симфіз
 - B. Синдесмоз
 - C. Синхондроз
 - D. Синостоз
 - E. Діартроз



А. Симфіз


Чоловік 45 років, впавши на праве коліно, відчув різкий біль в суглобі. При огляді: сильний набряк на **передній поверхні колінного суглоба**, при рухах чути **хрускіт**. Яка кістка пошкоджена?





- 
- 
- A. Наколінок.
 - B. Шийка стегнової кістки
 - C. Лівий надвиросток стегнової кістки
 - D. Правий надвиросток стегнової кістки
 - E. Головка малогомілкової кістки



A. Наколінок




При медичному обстеженні у військкоматі у хлопця 18 років виявлено опускання голівки таранної кістки, що призвело до **плоскостопості**. Із слабкістю якої **зв'язки** стопи це пов'язано?



- 
- 
- А. Підшовної клино-кубоподібної зв'язки
 - В. Таранно-човноподібної зв'язки
 - С. Підшовної п'ятково-човноподібної зв'язки
 - Д. Міжкісткової клино-кубоподібної зв'язки
 - Е. Роздвоєної зв'язки



С. Подошовної п'ятково-човноподібної зв'язки




У хворого на цукровий діабет розвинулася волога гангрена стопи. Йому показана ампутація в ділянці поперечного суглоба заплесна (суглоба Шопара). Яку ключову зв'язку повинні пересікти хірурги для вичленення в даному суглобі?


- 
- 
- A. Lig. talocalcaneum laterale
 - B. Lig. cuneocuboideum dorsale
 - C. Lig. bifurcatum
 - D. Lig. mediale
 - E. Lig. talocalcaneum interosseum



C. Lig.bifurcatum



Дитина 6-ти років внаслідок падіння на гострий предмет отримала травму м'яких тканин між **мало- і великоомілковою кістками**. Який вид **з'єднання** пошкоджений?



A. Зв'язка

B. Шво


C. Мембрана

D. Джерельце


E. Вклинення





С. Мембрана




У спортсменів нерідко спостерігається пошкодження менісків колінного суглоба. При якому механізмі травми може відбутися **розрив медіального і латерального менісків?**




- 
- A. При розриві колатеральних зв'язок
 - B. При розриві хрестоподібних зв'язок
 - C. При пошкодженні зв'язок підколінної ямки
 - D. При вивихах гомілки
 - E. Розрив медіального меніска при ротації гомілки назовні, а латерального – досередини





Е. Розрив медіального меніска при ротації гомілки
назовні, а латерального – досередини






Після травми в ділянці колінного суглоба у хворого спостерігається симптом **«висувної шухляди»**, передньо-заднє зміщення гомілки відносно стегна. Які **зв'язки** пошкоджені?

- 
- 
- А. Хрестоподібні зв'язки
 - В. Дугоподібна підколінна зв'язка
 - С. Коса підколінна зв'язка
 - D. Міжкісткова мембрана
 - Е. Колатеральні зв'язки





■ А .Хрестоподібні зв'язки






Футболіст звернувся до лікаря зі скаргами на раптовий біль в правому колінному суглобі під час гри. При обстеженні встановлено **зміщення латерального меніска**. Які з перерахованих **зв'язок**, найімовірніше, могли бути пошкоджені?


- 
- 
- А. Хрестоподібні і коса
 - В. Хрестоподібні і дугоподібна
 - С. Хрестоподібні і зв'язка надколінка
 - D. Поперечна
 - Е. Хрестоподібні і бічні



■ D. Поперечна




Хірургу необхідно провести видалення частини травмованої стопи по лінії **суглоба Лісфранка**. Яку зв'язку необхідно перетнути?

- 
- А. Надп'ятково-човноподібну
 - В. П'ятково-човноподібнау
 - С. Надп'ятково-п'яткову
 - D. Медіальну міжкісткова заплесно-плеснову
 - Е. Роздвоєну




■ D. Медіальну міжкісткову заплесно-плеснову






У хворого - травма коліна. Коліно в зігнутому під прямим кутом положенні можна переміщувати вперед і назад подібно **висувної шухляди**. Які **зв'язки** розірвані?



- 
- А. Поперечна зв'язка коліна
 - В. Коса і дугоподібна підколінні зв'язки
 - С. Хрестоподібні зв'язки коліна
 - Д. Великогомілкова колатеральна, бічний утримувач надколінка
 - Е. Велико- та малогомілкові колатеральні зв'язки



■ С. Хрестоподібні зв'язки коліна




Під час футбольного матчу гравець отримав травму колінного суглоба. На рентгенівській плівці помітний виражений перелом кістки, яка лежить в товщі сухожилля **чотириголового м'яза стегна**. До якої з перерахованих **груп кісток** належить ця кістка?


- 
- 
- А. Плоскі
 - В. Сесамоподібні
 - С. Трубчасті
 - D. Повітроносні
 - Е. Змішані



■ В. Сесамоподібні




У потерпілого визначається перелом в ділянці внутрішньої поверхні **лівого надп'яtkово-гомiлкового суглоба**. Де найімовірніше стався **перелом**?

- 
- А. Медіальна кісточка
 - В. Нижня третина малогомілкової кістки
 - С. Надп'яткова кістка
 - D. Латеральна кісточка
 - Е. П'яткова кістка



■ А. Медіальна кісточка



A gynecologist dimensioned the pelvis of a 20-year-old pregnant woman. The **distance** between the **greater trochanters** of the femurs was measured with the help of a pelvimeter. What size of the large pelvis was dimensioned?



A. Anatomical conjugate

B. Intercristal distance

C. True conjugate



D. Interspinous distance

E. Intertrochanteric distance



E. Intertrochanteric distance

A 25-year-old man appealed to a doctor with complaints of movements damage in the **knee joint** - anteroposterior displacement of the crus about the femur (so-called **drawer sign**), that appeared after a trauma. What ligaments of the knee joint are injured?

- 
- 
- A. Oblique popliteal
 - B. Cruciate
 - C. Arcuate popliteal
 - D. Collateral
 - E. Interosseous membrane of leg



B. Cruciate

